



نموذج الاجابة



وزارة التربية

اللجنة الفنية المشتركة للمرحلة الابتدائية

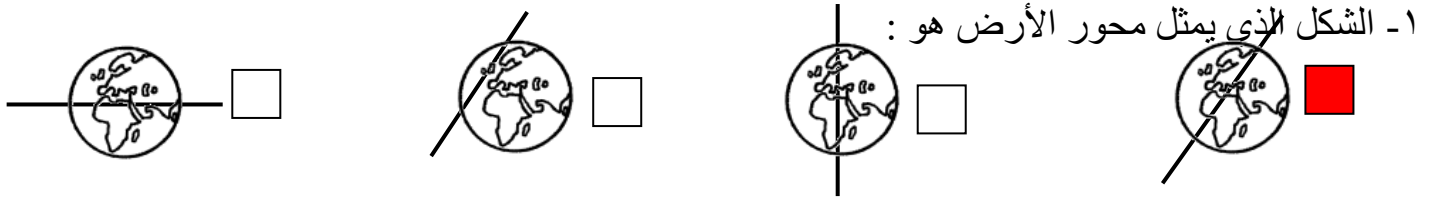
بنك أسئلة للصف الخامس الفصل الدراسي الأول

للعام الدراسي (٢٠١٩ / ٢٠٢٠ م)

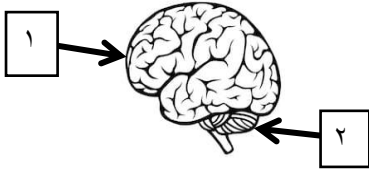
نموذج (٣)

السؤال الأول : اختر الإجابة الصحيحة علمياً لكل من العبارات التالية بوضع علامة (✓) في المربع

المقابل لها:



٢- وظيفة الجزء رقم (٢) هي :



التحكم في التنفس

حفظ التوازن

التحكم في خفقان القلب

نقل الرسائل العصبية الحركية

٣- الترتيب الصحيح للمراحل التي تمر بها لقمة البسكويت هي:

(الفم- المرئ- المعدة - الأمعاء الدقيقة)

(الفم - المعدة - الأمعاء الدقيقة - المرئ)

(الفم - المرئ - الأمعاء الدقيقة- المعدة)

(الفم - المعدة - المرئ- الأمعاء الدقيقة)

٤- يرمز لغاز الأوزون بالرمز :

O₄

O₃

O₂

O

٥- طبقة من طبقات الغلاف الجوي تتميز بخلوها من الظواهر الجوية هي :

التروبوسفير

الستراتوسفير

الميزوسفير

الثيرموسفير

السؤال الثاني : ضع كلمة (صحيحة) للعبارة الصحيحة وكلمة (خطأ) للعبارة الغير صحيحة لكل مما

يلي :

- ١- يتكون الغلاف الجوي للأرض من ٣ طبقات . (.....خطأ.....)
- ٢- ينشأ غاز الأوزون بتأثير الأشعة فوق البنفسجية . (.....صحيحة.....)
- ٣- استخدام المبيدات الحشرية يؤثر سلبا على طبقات الغلاف الجوي . (.....صحيحة.....)
- ٤- أول خطوات الإسعافات الأولية للإغماء هي إعطاء المغمى عليه ماء. (.....خطأ.....)
- ٥- الحبل الشوكي هو العضو المسؤول عن الفعل المنعكس . (.....صحيحة.....)

السؤال الثالث : في الجداول التالية اختر العبارة من المجموعة (ب) وأكتب رقمها أمام مايناسبها من عبارات المجموعة (أ) :

الإجابة	المجموعة (أ)	المجموعة (ب)
(.٢.)	أقرب كواكب النظام الشمسي إلى الشمس.	١ - الزهرة ٢ - عطارد
(.٣.)	أبعد كواكب النظام الشمسي عن الشمس.	٣ - نبتون
(.٣.)	أعلى طبقات الغلاف الجوي حرارة.	١ - الميزوسفير ٢ - الستراتوسفير
(.١.)	أكثر طبقات الغلاف الجوي برودة.	٣ - الثيرموسفير

السؤال الرابع: اكتب بين القوسين الاسم أو المصطلح العلمي الذي تدل عليه كل من العبارات التالية:

- ١- خط وهمي مائل يمر بالقطبين الشمالي والجنوبي للكرة الأرضية. (.....محور الأرض.....)
- ٢- نسيج قوي مرن يمنع احتكاك العظام وتآكلها . (.....الغضروف.....)
- ٣- وعاء دموي ينقل الدم من الجسم عائداً به إلى القلب . (.....الوريد.....)
- ٤- تمزق أو تهتك يصيب العظام لعدة أسباب . (.....الكسور.....)
- ٥- تجمع من النجوم والكواكب والأقمار وأجسام كونية أخرى . (.....المجرة.....)

السؤال الخامس: ضع كلمة (صحيحة) للعبارة الصحيحة وكلمة (خطأ) للعبارة الغير صحيحة مع

تصحيح الخطأ إن وجد في كل مما يلي :

١- يتكون النظام الشمسي من ٩ كواكب . (.....خطأ.....)

تصحيح الخطأ : ٨ كواكب

٢- المبيدات الصديقة للبيئة لا تضر بصحتنا أو بالغلاف الجوي. (.....صحيحة.....)

تصحيح الخطأ :

٣- الجهاز التنفسي يزود خلايا أجسامنا بالمغذيات. (.....خطأ.....)

تصحيح الخطأ :الجهاز التنفسي يزود خلايا الجسم بالأكسجين.....

السؤال السادس : أجب عن الأسئلة التالية :

١- عدد اثنان من مقومات الحياة على كوكب الأرض.

أ-الجاذبية الأرضية./ الغلاف الجوي.....

ب-.....وجود الماء/ درجة الحرارة المناسبة.....

٢- اذكر اثنان من الممارسات السلبية التي تؤثر على طبقة الأوزون .

أ-دخان المصانع./ المبيدات الحشرية.....

ب-.....الأسمدة الكيماوية / وقود المواصلات.....

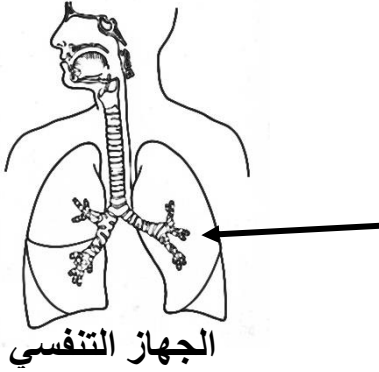
السؤال السابع : أكمل جداول المقارنة التالية:

النجم	الكوكب	أوجه المقارنة
.....ذاتي.الإضاءة.....غير ذاتي الإضاءة.....	مصدر الضوء (ذاتي الإضاءة /غير ذاتي الإضاءة)

الأكسجين	الأوزون	أوجه المقارنة
.....٢.....٣.....	عدد ذرات الأكسجين

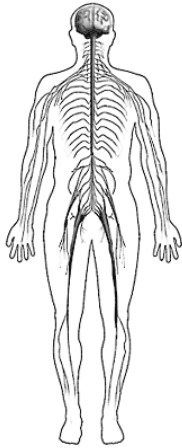
السؤال الثامن: علل لكل ما يأتي تعليلا علميا سليما :

- ١- يخفق قلبك بشكل أسرع عند الركض .
..... لأن العضلات تحتاج إلى أكسجين ومغذيات.....
- ٢- إصابة رواد الفضاء بالعديد من الأمراض أثناء السفر للفضاء.
..... بسبب انعدام الجاذبية.....



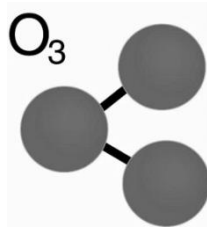
السؤال التاسع : أكمل البيانات على الرسم :

- ١- العضو المشار إليه بالرسم يسمى....**الرتنين**.....



- ٢- الجهاز الموضح أمامك يسمى**الجهاز العصبي**...

السؤال العاشر: ادرس الصورتين وأوجد العلاقة بينهما :



..... أن غاز الأوزون يوجد في طبقة الستراتوسفير.....

انتهت الأسئلة